

電子試算表(Excel)

答案	題號	題目																																
C	01.	在Excel中，當你在工作表上某一位置插入單一儲存格，會使得原來在該位置的儲存格往下列哪一方向移動？(A)上移或下移(B)左移或右移(C)下移或右移(D)上移或左移																																
A	02.	<p>如附圖所示，當您在A2:A20輸入學生座號，並在C2:C20輸入操行成績之後，卻發現漏掉16號同學的資料，下列那一種方法可以將16號的資料補打在15和17號之間？(A)在17號同學座號處以「整列」方式插入儲存格(B)在17號同學座號處以「現有儲存格下移」方式插入儲存格(C)在15號同學座號處以「整列」方式插入儲存格(D)在15號同學座號處以「現有儲存格下移」方式插入儲存格</p> <table border="1" style="margin-left: auto; margin-right: auto;"> <thead> <tr> <th></th> <th>A</th> <th>B</th> <th>C</th> </tr> </thead> <tbody> <tr> <td>1</td> <td style="background-color: yellow;">座號</td> <td style="background-color: lightgreen;">姓名</td> <td style="background-color: lightblue;">操行成績</td> </tr> <tr> <td>15</td> <td>14</td> <td>陳小美</td> <td>65</td> </tr> <tr> <td>16</td> <td>15</td> <td>王力宏</td> <td>75</td> </tr> <tr> <td>17</td> <td>17</td> <td>木村杰</td> <td>88</td> </tr> <tr> <td>18</td> <td>18</td> <td>呂大山</td> <td>95</td> </tr> <tr> <td>19</td> <td>19</td> <td>許文榮</td> <td>75</td> </tr> <tr> <td>20</td> <td>20</td> <td>陳世傑</td> <td>86</td> </tr> </tbody> </table>		A	B	C	1	座號	姓名	操行成績	15	14	陳小美	65	16	15	王力宏	75	17	17	木村杰	88	18	18	呂大山	95	19	19	許文榮	75	20	20	陳世傑	86
	A	B	C																															
1	座號	姓名	操行成績																															
15	14	陳小美	65																															
16	15	王力宏	75																															
17	17	木村杰	88																															
18	18	呂大山	95																															
19	19	許文榮	75																															
20	20	陳世傑	86																															
C	3.	若選取Excel中編輯文件的前三列執行「插入/列」功能，則在原選取列上方會出現插入幾列？(A)1列(B)2列(C)3列(D)4列																																
D	4.	在Excel中，當你插入一欄時，原先的儲存格會往下列哪個方向移動？(A)上(B)下(C)左(D)右																																
D	5.	在儲存格中可以輸入下列哪些資料？(A)只限計算公式(B)只限文字(C)只限數字(D)文字、數字、公式均可																																
B	6.	<p>如附圖所示，在EXCEL工作表中一格一格可以輸入資料的空格，為下列何項名稱？(A)工作表(B)儲存格(C)活頁簿(D)欄位</p> <table border="1" style="margin-left: auto; margin-right: auto;"> <thead> <tr> <th>A</th> <th>B</th> </tr> </thead> <tbody> <tr> <td style="border: 1px solid black;"></td> <td style="border: 1px solid black;"></td> </tr> </tbody> </table>	A	B																														
A	B																																	
B	7.	<p>如附圖所示，若您將要將C2儲存格所設定的公式，套用至C3至C4儲存格，除了重新輸入一次外，您還可以用下列何項方法輕易完成？(A)「剪下」/「貼上」(B)「複製」/「貼上」(C)「複製」/「填滿」(D)「剪下」/「填滿」</p> <table border="1" style="margin-left: auto; margin-right: auto;"> <thead> <tr> <th></th> <th>A</th> <th>B</th> <th>C</th> </tr> </thead> <tbody> <tr> <td>1</td> <td>期中考</td> <td>期末考</td> <td>平均成績</td> </tr> <tr> <td>2</td> <td>89</td> <td>90</td> <td>89.5</td> </tr> <tr> <td>3</td> <td>65</td> <td style="color: red;">55</td> <td></td> </tr> <tr> <td>4</td> <td style="color: red;">40</td> <td>80</td> <td></td> </tr> </tbody> </table>		A	B	C	1	期中考	期末考	平均成績	2	89	90	89.5	3	65	55		4	40	80													
	A	B	C																															
1	期中考	期末考	平均成績																															
2	89	90	89.5																															
3	65	55																																
4	40	80																																
A	8.	當您把資料輸入儲存格後發現資料長度超過儲存格寬度，那您可以使用下列何種方法在不改變儲存格寬度卻可以看到全部資料內容？(A)設定儲存格自動換列(B)設定合併儲存格(C)設定儲存格水平對齊(D)設定儲存格垂直對齊																																
A	9.	在Excel中，想在工作表F欄和G欄中插入一欄時，可如何操作？(A)點選G欄任何處，然後按「插入/欄」(B)點選F欄任何處，然後按「插入/欄」(C)點選E欄任何處，然後按「插入/欄」(D)點選H欄任何處，然後按「插入/欄」																																
C	10.	假如您想把「台北市政府教育局」等字由儲存格A1~C1儲存格水平置中，在選取儲存格A1到C1後，那您可應用「格式/儲存格/對齊/文字對齊水平方式」中的下列何項功能完成？(A)靠左對齊(B)置中對齊(C)跨欄置中(D)靠右對齊																																

電子試算表(Excel)

B	11.	在Excel中，欲插入一張美工圖案可以利用下列何種選項？(A)「插入/物件」(B)「插入/圖片」(C)「插入/地圖」(D)「插入/圖表」									
A	12.	在Excel中，欲使儲存格顏色從黃色變為藍色，可按下列何項工具按鈕？ (A)  (B)  (C)  (D) 									
C	13.	在Excel中，如欲使用滑鼠進入所插入的編輯圖片畫面，應使用下列何項操作方式？(A)左鍵一下(B)右鍵一下(C)左鍵二下(D)右鍵二下									
C	14.	在Excel中 $A_d \times C = B$ 此“d”效果為下列何種字型效果？ (A)刪除線(B)上標(C)下標(D)上移									
A	15.	在Excel中 林馥敏 此效果為下列何種字型效果？，(A)刪除線(B)上標(C)下標(D)上移									
B	16.	在Excel中 25^4 其4次方為下列何種字型效果？，(A)刪除線(B)上標(C)下標(D)上移									
C	17.	在Excel中，可以用下列那一個方法，叫出儲存格的快顯功能表，以進行儲存格必要的編輯？(A)按滑鼠左鍵(B)同時按滑鼠左右鍵(C)按滑鼠右鍵(D)按滑鼠右鍵和[Shift]鍵									
C	18.	在Excel中，欲清除其資料清單的外框及內框設定可由下列何項工具按鈕設定？ (A)  (B)  (C)  (D) 									
C	19.	在Excel中，欲將字型改變顏色以突顯重點，可由下列何者設定字型顏色？ (A)  (B)  (C)  (D) 									
C	20.	在Excel中，當你複製完畢後，儲存格仍可以看到移動的虛線外框，表示仍可繼續複製，若不想再複製原來的儲存格，可以使用下列何鍵取消？(A)「Enter」鍵(B)「Del」鍵(C)「Esc」鍵(D)「F6」鍵									
A	21.	在Excel中，下列何項指令會清除儲存格的資料但仍可保留原儲存格的位置？(A)「編輯/清除」(B)「編輯/刪除」(C)「編輯/插入」(D)「編輯/複製」									
B	22.	假設您想刪除儲存格A1的內容，那您先把滑鼠移至A1，除按空白鍵、再按Enter鍵可以做到外，還可以使用下列何鍵操作？(A)Insert鍵(B>Delete鍵(C)Home鍵(D)End鍵									
C	23.	如附圖所示，欲把儲存格A1的內容搬移至B1，要把滑鼠先放在A1位置，按「剪下」鍵後，把滑鼠移至B1，然後應使用下列何項操作？(A)按「複製」(B)按「剪下」(C)按「貼上」(D)按「清除」 <table border="1" style="margin-left: auto; margin-right: auto; text-align: center;"><thead><tr><th></th><th>A</th><th>B</th></tr></thead><tbody><tr><th>1</th><td>學期成績</td><td></td></tr><tr><th>2</th><td></td><td></td></tr></tbody></table>		A	B	1	學期成績		2		
	A	B									
1	學期成績										
2											
B	24.	假如您在工作表中已經輸入數十個或數百個「抬北」在不同儲存格中，您想把他更正為「台北」，您可以選取工作表的所有儲存格並使用「編輯」選項中的何項功能？(A)尋找(B)取代(C)到(D)貼上									

電子試算表(Excel)

A	25.	<p>在Excel中，不小心誤刪正確資料時，可按下下列哪個工具按鈕回復原始正確資料？</p> <p>(A)  (B)  (C)  (D) </p>																																								
A	26.	<p>在Excel中，欲複製儲存格內容至其他儲存格時，可按下下列哪個工具按鈕？</p> <p>(A)  (B)  (C)  (D) </p>																																								
C	27.	<p>在Excel中，欲複製儲存格內格式套用至其他儲存格時，可按下下列哪個種工具按鈕？</p> <p>(A)  (B)  (C)  (D) </p>																																								
B	28.	<p>在Excel中，執行下列何項動作會造成原位於右側的儲存格往左移？(A)清除儲存格(B)刪除儲存格(C)插入儲存格(D)貼上儲存格</p>																																								
D	29.	<p>如附圖所示，欲去除排名欄位（A欄）整行的資料，同時讓姓名欄（B欄）向左移動（至A欄），下列哪一項是正確的操作程序？(A)選取排名欄位整行資料，再按下「取代」(B)選取排名欄位整行資料，再按下「清除」(C)選取排名欄位整行資料，再按下「剪下」(D)選取排名欄位整行資料，再按下「刪除」</p> <table border="1" style="margin-left: auto; margin-right: auto; text-align: center;"> <thead> <tr> <th></th> <th>A</th> <th>B</th> <th>C</th> <th>D</th> </tr> </thead> <tbody> <tr> <td>1</td> <td>排名</td> <td>姓名</td> <td>學號</td> <td>操行成績</td> </tr> <tr> <td>2</td> <td>1</td> <td>呂大山</td> <td>900104</td> <td>95</td> </tr> <tr> <td>3</td> <td>2</td> <td>木村杰</td> <td>900103</td> <td>88</td> </tr> <tr> <td>4</td> <td>3</td> <td>陳世傑</td> <td>900106</td> <td>86</td> </tr> <tr> <td>5</td> <td>4</td> <td>王力宏</td> <td>900102</td> <td>75</td> </tr> <tr> <td>6</td> <td>5</td> <td>許文榮</td> <td>900105</td> <td>75</td> </tr> <tr> <td>7</td> <td>6</td> <td>陳小美</td> <td>900101</td> <td>65</td> </tr> </tbody> </table>		A	B	C	D	1	排名	姓名	學號	操行成績	2	1	呂大山	900104	95	3	2	木村杰	900103	88	4	3	陳世傑	900106	86	5	4	王力宏	900102	75	6	5	許文榮	900105	75	7	6	陳小美	900101	65
	A	B	C	D																																						
1	排名	姓名	學號	操行成績																																						
2	1	呂大山	900104	95																																						
3	2	木村杰	900103	88																																						
4	3	陳世傑	900106	86																																						
5	4	王力宏	900102	75																																						
6	5	許文榮	900105	75																																						
7	6	陳小美	900101	65																																						
B	30.	<p>假設滑鼠是在儲存格A12，應使用下列何項功能，才能將工作表的A12所在的列刪除？(A)「編輯/清除/整列」(B)「編輯/刪除/整列」(C)「編輯/刪除/整欄」(D)「編輯/清除/整欄」</p>																																								
A	31.	<p>當您想一次選取「欄A」整欄的儲存格以整欄刪除，可使用下列何項操作？(A)把滑鼠移到「欄A」內，然後按滑鼠右鍵，選取快顯功能表中的刪除設定(B)把滑鼠移到「欄A」內，然後按滑鼠左鍵，選取快顯功能表中的刪除設定(C)把滑鼠移到儲存格A1，然後按滑鼠右鍵，選取快顯功能表中的刪除設定(D)把滑鼠移到儲存格A1，然後按滑鼠左鍵，選取快顯功能表中的刪除設定</p>																																								
A	32.	<p>「選擇性貼上」的那一個選項可使貼上的資料隨資料來源改變而同時改變？(A)「貼上連結」(B)「貼上/全部」(C)「貼上/值」(D)「貼上/驗證」</p>																																								
B	33.	<p>在Excel中，下列何項操作會造成原先下面的儲存格往上移？(A)清除(B)刪除(C)插入(D)貼上</p>																																								
A	34.	<p>在Excel中，E3中公式為\$B\$5+\$D\$20，將其公式複製至F4後，原公式會變成下列何項正確？(A)\$B\$5+\$D\$20(B)\$B\$5+\$E\$20(C)\$C\$5+\$E\$20(D)\$C\$6+\$E\$21</p>																																								
B	35.	<p>在Excel中，若A1儲存格的值為「星期六」，若拖曳A1儲存格右下角的控點來自動填滿日期資料到A3儲存格，則A1:A3之儲存格內容，下列何項正確？(A)星期六，星期日，星期一(B)星期六，星期日，星期一(C)星期六，星期六，星期六(D)星期一，星期二，星期三</p>																																								

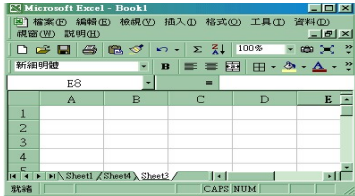
電子試算表(Excel)

B	36.	假設您想從 A 工作簿複製一項資料到 B 工作簿，也希望當 A 工作簿的資料有變化時，B 工作簿的資料也同步更新，那您可以在下列「編輯」功能中作何項設定？(A)「複製和貼上(B)「複製」和「選擇性貼上」(C)「剪下」和「貼上」(D)「複製」和「刪除」
B	37.	假如您不想讓其他人看到有關「學生個人詳細資料表」的資料，以防有心人士利用，您可以應用「格式/工作表」中的下列哪項功能？(A)「背景」(B)「隱藏」(C)「重新命名」(D)「鎖定」
C	38.	在Excel中，在資料編輯區內，欲將儲存格公式的A1改為\$A\$1，可用下列何鍵修改？(A)[Ctrl]鍵(B)[Shift]鍵(C)[F4]鍵(D)[F8]鍵
B	39.	假設想把EXCEL工作表內的研究成果分享給其他老師看，又不想要讓他們更改資料內容，可以使用下列何項功能？(A)「保護/保護儲存欄」(B)「保護/保護工作表」(C)「隱藏」(D)「保護/保護活頁簿」
B	40.	假設儲存格A1的值为80，儲存格B1的值为90，若要計算兩者的和並放在儲存格C1，那您要在儲存格C1輸入下列哪一公式？ (A)=A1/B1(B)=A1 + B1(C)=A1 * B1(D)=A1 - B1
B	41.	在Excel工作表中，下列何項工具按鈕可選擇欲插入之函數設定？ (A)  (B)  (C)  (D) 
C	42.	在Excel中，若A1儲存格的值为70，而B1儲存格的公式為=IF(A1>=60, "A", "B")時，則B1的運算結果應為下列何項？(A)0(B)1(C)A(D)B
D	43.	假設學生的成績在A1:A35，您想在B1:B35標記及格或不及格，成績60分（含）以上者為及格，以下就不及格，您想用IF邏輯函數完成，那下列何項公式正確？(A)不及格(B)不及格(C)及格(D)及格
B	44.	在Excel中，如果A1=True，而且B1=False，若在C1輸入「AND(A1,B1)」，則下列那一個是其傳回值？(A)TRUE(B)False (C)True,False(D)False,True
C	45.	當您想在儲存格輸入時間資料，您可以設定「格式/儲存格/數字」中為下列何項類別格式？(A)百分比(B)日期(C)時間(D)貨幣
C	46.	若現在的日期及時間是「90年5月23日星期四上午10時20分0秒」，在EXCEL中，當輸入一個日期函數，公式= Today()，若再將儲存格式自訂為「yyyy年m月d日」，則資料數列會顯示下列哪一項結果？(A)90年5月23日(B)民國90年5月23日(C)2001年5月23日(D)2001/5/23
A	47.	在Excel中，若欲在儲存格內顯示目前電腦內建的日期，可使用下列哪一個函數？(A)Today()(B)Day()(C)Date()(D)Time()
A	48.	若在EXCEL中將儲存格格式設為日期「yyyy"年"m"月"d"日」格式，當您輸入90/10/10數值時，則儲存格會顯示成下列何項中的內容？(A)1990年10月10日(B)民國90年10月10日(C)90除以10再除以10(D)2000年10月10日
B	49.	當您在格式設定為時間的儲存格輸入7:35時間值，EXCEL會解讀為下列何項？(A)下午七點35分(B)上午七點35分(C)7分35秒(D)7又35分鐘











電子試算表(Excel)

D	50.	假如您想在儲存格A1到L1輸入一月至十二月，那您可以用下列哪一方法輕易完成？(A)逐月輸入(B)在A1輸入一月，然後一一複製到其他儲存格(C)在A1輸入一月、在L1輸入十二月，EXCEL會自動補滿二月至十一月(D)在A1輸入一月，然後把滑鼠移至A1右下角的+字黑點上，以滑鼠按住往右拖曳至L1處																																								
B	51.	<p>如附圖所示，若在A1儲存格輸入=SUM(C2:D3)，則所產生的數值為幾個儲存格之加總？</p> <table border="1" style="margin-left: auto; margin-right: auto;"> <thead> <tr> <th></th> <th>A</th> <th>B</th> <th>C</th> <th>D</th> </tr> </thead> <tbody> <tr> <td>1</td> <td style="background-color: yellow;">316</td> <td>106</td> <td>65</td> <td>24</td> </tr> <tr> <td>2</td> <td>52</td> <td>65</td> <td>75</td> <td>85</td> </tr> <tr> <td>3</td> <td>56</td> <td>24</td> <td>99</td> <td>57</td> </tr> <tr> <td>4</td> <td>98</td> <td>16</td> <td>95</td> <td>68</td> </tr> </tbody> </table> <p>(A)2(B)4(C)5(D)6</p>		A	B	C	D	1	316	106	65	24	2	52	65	75	85	3	56	24	99	57	4	98	16	95	68															
	A	B	C	D																																						
1	316	106	65	24																																						
2	52	65	75	85																																						
3	56	24	99	57																																						
4	98	16	95	68																																						
D	52.	在儲存格內要輸入運算公式或函數時，應該在公式或函數最前面加上哪一個符號？(A)/(B)+(C)-(D)=																																								
B	53.	欲使用 Excel 計算「 $2^3 \div 24$ 」的結果，下列哪一項公式輸入正確？(A)=(2^3)\24(B)=(2*2*2)/24(C)=(2*3)/24(D)=(2+3)/24																																								
A	54.	在Excel中，要計算出儲存格F3、F4、F5、F6、F7中的最小值，則可使用下列哪一項函數？ (A)=MIN(F3:F7) (B)=SUM(F3:F7) (C)=AVERAGE(F3:F7) (D)=MAX(F3:F7)																																								
B	55.	在Excel中，若A1，A2，A3，A4儲存格的值分別為0，1，2，3時，而A5儲存格的公式為=COUNT(A1:A4)時，則A5存格的值應為下列何項？(A)6(B)4(C)3(D)0																																								
A	56.	假設學生之身高資料是放在儲存格A1到A36，您想在儲存格A37計算學生平均身高，下列公式何項正確？(A)=AVERAGE(A1:A36) (B)=AVERAGE(A1:A37) (C)=AVERAGE(A1:A37) (D)=AVERAGE(A1:A39)																																								
D	57.	在Excel中，=ROUND(12345.678,-2)與=ROUND(12345.678,2)分別的計算結果，下列哪一項正確？(A)12345.67與12345.67(B)12340與12345.6(C)12345與12345(D)12300與12345.68																																								
B	58.	在Excel中，若A1，A2，A3，A4，A5儲存格的值分別為1，2，3，4，5時，若設A6=AVERAGE(A1:A5)，下列那一個是計算結果值？(A)2(B)3(C)4(D)5																																								
D	59.	<p>在Excel中，若要將A1，A2，A3，A4，B1，B3，C1，C2儲存格內的值加總到D1儲存格，則D1儲存格公式應為下列何項？</p> <p>(A)=SIGN(A1:A4,B1,B3,C1,C2) (B)=SUMSQ(A1:C2) (C)=SUMSQ(A1:C2) (D)=SUM(A1:A4,B1,B3,C1:C2)</p>																																								
C	60.	<p>若六位學生的學費繳交情況如附圖所示，假設欲在儲存格D8計算尚有多少位學生未繳交學費，則您應該輸入下列公式何者正確？</p> <p>(A)=COUNTA(D2:7) (B)=COUNTA(D1:D7) (C)=6-COUNTA(D2:D7) (D)=6-COUNTA(D1:D7)</p> <table border="1" style="margin-left: auto; margin-right: auto;"> <thead> <tr> <th></th> <th>A</th> <th>B</th> <th>C</th> <th>D</th> </tr> </thead> <tbody> <tr> <td>1</td> <td style="background-color: yellow;">班級</td> <td style="background-color: yellow;">姓名</td> <td style="background-color: yellow;">學號</td> <td style="background-color: yellow;">學費</td> </tr> <tr> <td>2</td> <td>一甲</td> <td>呂大山</td> <td>900101</td> <td></td> </tr> <tr> <td>3</td> <td>一甲</td> <td>木村杰</td> <td>900102</td> <td>已繳</td> </tr> <tr> <td>4</td> <td>一甲</td> <td>陳世傑</td> <td>900103</td> <td></td> </tr> <tr> <td>5</td> <td>一甲</td> <td>王力宏</td> <td>900104</td> <td>已繳</td> </tr> <tr> <td>6</td> <td>一甲</td> <td>許文榮</td> <td>900105</td> <td>已繳</td> </tr> <tr> <td>7</td> <td>一甲</td> <td>陳小美</td> <td>900106</td> <td>已繳</td> </tr> </tbody> </table>		A	B	C	D	1	班級	姓名	學號	學費	2	一甲	呂大山	900101		3	一甲	木村杰	900102	已繳	4	一甲	陳世傑	900103		5	一甲	王力宏	900104	已繳	6	一甲	許文榮	900105	已繳	7	一甲	陳小美	900106	已繳
	A	B	C	D																																						
1	班級	姓名	學號	學費																																						
2	一甲	呂大山	900101																																							
3	一甲	木村杰	900102	已繳																																						
4	一甲	陳世傑	900103																																							
5	一甲	王力宏	900104	已繳																																						
6	一甲	許文榮	900105	已繳																																						
7	一甲	陳小美	900106	已繳																																						

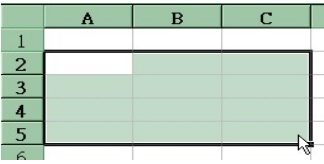
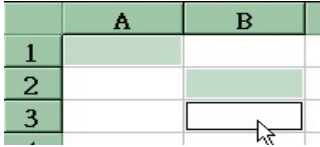
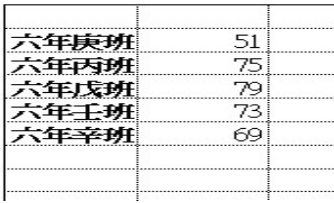




電子試算表(Excel)

C	61.	已在EXCEL內輸入好學生座號和成績，若想知道學生成績排名，可以應用下列何項功能？(A)「資料/資料驗證」(B)「資料/小計」(C)「資料/排序」(D)「資料/篩選」
B	62.	假如在做學生成績排序時，您想把分數成績高的學生排在前，分數成績低者排在後，那您應該使用下列何種排序？(A)遞增（升幕）(B)遞減（降幕）(C)不用排序，EXCEL會自動產生(D)EXCEL無此功能
A	63.	在Excel中，每一個新活頁簿的第一個工作表預設的名稱為Sheet1，欲更改其工作表標，應使用下列何種方式更改？(A)滑鼠移至Sheet1處，連續按二下左鍵，使Sheet1文字被選取了，再鍵入新名稱即可(B)滑鼠移至Sheet1處，連續按二下右鍵，使Sheet1文字被選取了，再鍵入新名稱即可(C)滑鼠移至Sheet1處，連續按一下左鍵，使Sheet1文字被選取了，再鍵入新名稱即可(D)滑鼠移至Sheet1處，同時按取左右鍵，使Sheet1文字被選取了，再鍵入新名稱即可
D	64.	<p>如附圖所示，當開啟EXCEL後，呈現在畫面上由一格一格的儲存格構成的區域（如Sheel3）稱為下列何項？</p>  <p>(A)儲存格(B)活頁簿(C)欄位(D)工作表</p>
A	65.	假如您想加高列45的列高度，那您可以使用下列何項方式？(A)滑鼠按住列45的下方並往下拖曳到您所需要的高度(B)滑鼠按住列45的上方並向上拖曳到您所需要的高度(C)滑鼠按住列46的上方並向下拖曳到您所需要的高度(D)滑鼠按住列44的下方並往上拖曳到您所需要的高度
A	66.	假如您想增加欄B的欄寬度，那您可以使用下列何項方式？(A)滑鼠按住欄B的右方並往右拖曳到您所需要的寬度(B)滑鼠按住欄B的左方並往左拖曳到您所需要的寬度(C)滑鼠按住欄C的左方並往右拖曳到您所需要的寬度(D)滑鼠按住欄B的左方並往右拖曳到您所需要的高度
C	67.	當在儲存格輸入計算公式時，公式前一定要加上哪一種符號？(A)*(B)+(C)=(D)/
C	68.	在Excel中，儲存格顯示「#####」之資料，為下列何者因素？(A)資料已被複製(B)資料被註記(C)資料過長超過欄寬或格式設定有誤(D)資料樣式有誤
C	69.	在Excel視窗操作的功能中，假如下列選項都存在時，何者可以變動視窗中的資料欄名位置？(A)最大化按鈕(B)垂直捲軸(C)水平捲軸(D)最小化按鈕
B	70.	在Excel中，若要指定輸入的資料（數字）是文字型式時，應在輸入資料時先輸入下列哪一項前導字元？(A)逗號，(B)引號“(C)問號？(D)分號；
A	71.	除非另外設定，否則EXCEL通常會把檔案自動存成下列哪一種的副檔名？(A).xls(B).cls(C).exl(D).exc
B	72.	在Excel中，儲存格顯示「#DIV/0!」字樣時，有可能是下列何項原因所造成的？(A)使用錯誤的範圍運算子(B)計算式的除數為0(C)使用了不存在的公式(D)計算的結果超出欄位寬度

電子試算表(Excel)

A	73.	<p>如附圖所示，欲利用Excel建立本班學生的各科成績，在選取了A2:A3儲存格後向下拖曳二個儲存格，若要自動填滿其A4:A5儲存格，則當滑鼠移至A3儲存格右下角，則滑鼠指標應變成為下列何者符號時才能執行向下拖曳共完成自填滿？</p> <div style="text-align: center;">  </div> <p>(A)黑色十字符號(B)白色箭頭符號(C)白色十字符號(D)左右箭頭符號</p>
A	74.	<p>已知圓面積的計算公式為 πr^2，且Excel圓周率函數為PI()，若圓半徑 $r=3$，則對於圓面積的公式，下列哪一項輸入正確？</p> <p>(A)=PI()*3^2 (B)=PI()*3*2 (C)=PI()*2^3 (D)=PI()^2*3</p>
B	75.	<p>在Excel中，計算式=D3+D4+D5+D6+D7，相當於下列哪一項函數的計算結果？</p> <p>(A)=MAX(D3:D7) (B)=SUM(D3:D7) (C)=DOUNT(D3:D7) (D)=AVERAGE(D3:D7)</p>
B	76.	<p>在Excel中，若在一儲存格設定公式=ABS(-3.28)，則計算結果為下列哪一項？</p> <p>(A)4(B)3.28(C)-4(D)-3.28</p>
C	77.	<p>已知圓柱表面積的計算公式為 $\pi h+2\pi r^2$，且Excel圓周率函數為PI()，若圓柱半徑 $r=3$，圓柱高$h=5$則對於圓柱表面積的公式，下列哪一項輸入正確？</p> <p>(A)=PI()^2+2*PI()*3^2 (B)=PI()*5+2*PI()*2^3 (C)=PI()*5+2*PI()*3^2 (D)=PI()*3+2*PI()*3^2</p>
C	78.	<p>在Excel中，原先資料內容長達兩頁，欲在列印時將全部資料列印成一頁輸出，則需由下列何處設定縮小列印比例？(A)一般工具列之縮放比例(B)「檢視/縮放視窗」功能表之(C)「版面設定/頁面」內的「縮放比例」(D)「檔案/列印範圍」</p>
C	79.	<p>工作表內的資料欄數較多，假如依照標準列印模式需要二頁才能印完，而您卻想在一張內印完，那您可以應用「版面設定/頁面」中的哪一項功能做到？</p> <p>(A)  縱向 (B)  橫向 (C)  調整成 (頁) (D)  頁高</p>
C	80.	<p>假如您想讓一份文件內容印出來時能上下邊界留白寬度一樣，增加它的美感，那您可以應用下列「版面設定/邊界」功能中的下列何項設定？(A)左邊界(B)水平置中(C)垂直置中(D)右邊界</p>
B	81.	<p>假如您想讓一份文件內容印出來時能左右邊界留白寬度一樣，增加它的美感，那您可以應用下列「版面設定/邊界」功能中的下列何項設定？(A)上邊界(B)水平置中(C)垂直置中(D)下邊界</p>
B	82.	<p>假如您在自訂頁尾時，想加上頁碼以方便讀者閱讀（如附圖所示），您應該按下列何項按鈕？</p> <div style="text-align: center;">  </div> <p>(A)  (B)  (C)  (D) </p>

電子試算表(Excel)

A	83.	<p>假設您想把整個工作表的內容都列印出來，那您應使用下列何種設定方式？(A)不需要設定，因為EXCEL會自行全部印出(B)需要自行設定，否則EXCEL無法列印(C)需要逐頁設定(D)需要逐欄設定</p>
C	84.	<p>在Excel中，欲選定A2:C5區間的儲存格</p> <p>1206-1，可利用滑鼠同時搭配下列何鍵作選取？ (A)[Alt]鍵(B)[Ctrl]鍵(C)[Shift]鍵(D)[Ins]鍵</p> 
B	85.	<p>在Excel中，欲選定如圖所示的區間時</p> <p>1206-2可利用滑鼠同時搭配下列何鍵作選取？ (A)[Shift]鍵(B)[Ctrl]鍵(C)[Alt]鍵(D)[Tab]鍵</p> 
B	86.	<p>假設您想在每一張成績表上都列印出「座號、姓名、平常成績、段考成績」等橫向欄位名稱，那您要如何設定，下列何項正確？(A)不需要設定，因為EXCEL會自行印出(B)「版面設定/工作表/列印標題/標題欄」(C)「版面設定/工作表/列印標題/標題列」(D)「版面設定/工作表/列印方式」</p>
C	87.	<p>在Excel中，可以包含多張工作表並處理和儲存資料的檔案，稱為下列何項？(A)工作環境(B)格式(C)活頁簿(D)樣式</p>
B	88.	<p>如附圖所示，在Excel中若不想列印工作表之灰色虛線，可使用下列哪一個選項予以清除？</p>   <p>(A)A處的列印範圍(B)B處的列印格線(C)C處的列印註解(D)D處的循環列印</p>
D	89.	<p>在Excel中，一個工作表視窗可依需要最多可分割為幾個窗格？(A)1個(B)2個(C)3個(D)4個</p>
A	90.	<p>在Excel中，建立圖表時，若須使用不同工作表之儲存格作為來源，可先按住下列何鍵協助選取動作？(A)[Ctrl]鍵(B)[Shift]鍵(C)[Alt]鍵(D)[Tab]鍵</p>
D	91.	<p>在Excel中， 此工具鈕代表下列何項功能？(A)樞紐分析表精靈(B)函數精靈(C)繪圖工具(D)圖表精靈</p>
B	92.	<p>當您的資料來源是A1:A36（直欄），那在設定圖表資料數列時，應該要是取自下列何項設定？(A)列(B)欄(C)儲存格(D)工作表</p>
A	93.	<p>在Excel中，若要在圖表內加入文字，可使用繪圖工具列中何種按鈕？</p> <p>(A)  (B)  (C)  (D) </p>
C	94.	<p>在Excel中，下列何種圖表類型最適用於百分比之資料顯示？(A)橫條圖(B)直條圖(C)圓形圖(D)折線圖</p>

電子試算表(Excel)

C	95.	關於在繪製統計圖表時，來源資料的資料範圍都有一定的限制，下列何者正確？(A)一定要是欄(B)一定要是列(C)視需要，可以是欄或列(D)欄和列一定要同時
B	96.	在繪製統計圖表時，操作者必須界定要用來完成圖表的基本資料範圍，這些資料我們稱之為下列何項？(A)資料儲存格(B)來源資料(C)資料欄位(D)資料區塊
C	97.	在Excel的圖表功能中，下列對於Y軸座標軸格式中的刻度項目之描述，下列何者敘述有誤？(A)可設定最大值和最小值(B)可設定主要刻度間距(C)可設定上下仰角(D)可設定為對數刻度
B	98.	在Excel中，在圖表視窗下，利用下列何項可顯示圖表的來源資料附加在圖表中？(A)「格式/選定資料數列」(B)「圖表選項/資料表/顯示資料表」(C)「插入/工作表」(D)「圖表/新增資料」
D	99.	在Excel中，下列何項是指刻度符號的延伸，方便與X軸及Y軸刻度對照？(A)圖例(B)座標軸(C)資料標籤(D)格線
A	100.	折線圖的高低起伏，讀者常常需要對照Y軸的數值，但越往右邊就越難對準，所以您可以使用下列哪項標註，增加閱讀的方便性？(A)格線(B)圖例(C)標題(D)座標值